

**Loonse**

**Kwis**

**2019**

## Om te beginnen



Naam team:

Kwislocatie:

Aantal teamleden:

Aantal aanwezig bij prijsuitreiking:

Kwistopper 1:

Kwistopper 2:

Kwistopper 3:

Kwistopper 4:

Kwistopper 5:

## Loonse Duim

Bij het inschrijven hebben we aan ieder team gevraagd een persoon te nomineren voor de Loonse Duim 2019. Uit de verschillende inzendingen hebben de Kwismasters drie personen genomineerd welke kans maken om de Loonse Duim 2019 te krijgen.

### Nominaties Loonse Duim



#### Niels Beerens

Niels is een actieve jongeman. Hij vertegenwoordigt Hoogeloon en de jongeren uit ons dorp in de gemeenteraad. Hij draagt de standpunten van zijn partij bewust uit.

Bij VV Hoogeloon actief als trainer/coach van de JO19-1, leider van Hoogeloon 2 en hoofdleider bij het voetbalkamp.



#### Tonny Tholen

Zowel bij de buurtvereniging “De Zwarte Berg” als bij korfbalvereniging “Klimroos” is hij voorzitter. Hij was actief om het samengaan van VVO en Klimroos te bereiken, zodat het korfbal in Hoogeloon kan blijven bestaan.

Bij de vorige editie en ook vanavond is Tonnie onze “filmer”.



#### Ida den Boer

Heel ons dorp moet Ida kennen, want ze fietst meer malen per week door weer en wind Hoogeloon door om ons van post te voorzien. Ook heeft ze haar eigen eierverkoop stalletje.

En het belangrijkste: ze is zeer milieubewust, Ida verzamelt zwerfafval langs Loonse wegen!

Uiteraard willen de Kwismasters de drie genomineerden via deze weg feliciteren met hun nominatie. Daarnaast willen de Kwismasters hen ook bedanken en complimenteren met hun inzet en bijdrage voor 2019.

Ook dit jaar kan er maar één persoon de Loonse Duim 2019 winnen. Jullie bepalen wie dit gaat worden. Dit doe je door je stem uit te brengen op één van de drie genomineerden. De persoon met de meeste stemmen mag op vrijdag 29 maart 2019 de prijs in ontvangst nemen.

Stem Loonse Duim:

## Ter informatie

Lees onderstaande punten aandachtig door voordat je begint!

1. De antwoorden op de vragen dienen te worden ingevuld in de blauwe kaders van dit vragenboekje. Aan niet of slecht leesbare antwoorden worden geen punten toegekend.

Alleen de teams die hun vragenboekje tijdig en op de juiste wijze hebben ingeleverd dingen mee naar de prijzen.

Het ingevulde kwisboek moet worden ingeleverd bij D'n Anloop op vrijdag 22 maart 2019 tussen 23.00 en uiterlijk 23.30 uur. Mocht je twijfelen over de tijd, de klok op teletekst is leidend. Te laat inleveren betekent uitsluiting.

Leg alle bladzijden van het kwisboek op de juiste volgorde en stop het geheel terug in de map. Het complete kwisboek moet in de meegeleverde tas! De gemaakte spullen ook in de tas aanleveren. De spullen moeten voorzien zijn van de groepsnaam.

2. Er zijn 11 categorieën:

1. Hoogeloon	2. Blauw	3. Reis om de wereld
4. Feest	5. Natuur- en scheikunde	6. Plat
7. Eco / bio	8. Seizoenen	9. Over de balk
10. Noot / nood / note	11. De geheime opdracht	

Per categorie zijn er 100 punten te verdienen. Daarnaast krijgen jullie de mogelijkheid om vijf vragen te bestempelen als een Kwistopper. Deze vragen leveren (naar ratio) maximaal twintig punten extra op. Per vraag vergeven we echter maximaal honderd extra punten over alle teams. Wanneer er meer dan vijf teams dezelfde vraag als Kwistopper markeren zullen we de honderd punten gaan verdelen over de teams. Geef op pagina twee aan welke vragen jullie Kwistoppers zijn.

3. Categorie 11 is een geheime opdracht. Ieder team moet voor deze opdracht één teamlid van het team naar de beugelclub sturen. Deze persoon moet daar om 20.30 uur aanwezig zijn (te laat of niet aanwezig: 0 punten). Een mobiele telefoon mag deze persoon niet meenemen. De tip voor dit jaar: d
4. Bij het uitreiken van het kwisboek hebben jullie extra spullen gekregen. Deze zijn nodig bij enkele vragen.
5. Neem te allen tijde de verkeersregels en veiligheidseisen in acht. Doe als je de straat op moet een veiligheidshesje aan. Heb ook respect voor de sociale omgangsvormen.
6. De uitslag van de Loonse Kwis is bindend en staat niet ter discussie. Indien zich situaties voordoen waarin dit reglement niet voorziet, nemen de Kwismasters een bindende beslissing. De Kwismasters kunnen niet aansprakelijk worden gesteld voor de gevolgen van de Loonse Kwis.
7. De uitslag van de Loonse Kwis wordt bekend gemaakt tijdens de prijsuitreiking. Deze vindt plaats op vrijdag 29 maart 2019 vanaf 20:00 uur in D'n Anloop. Ontzettend veel plezier toegewenst namens de Kwismasters!

1

Zomaar wandelen vinden kinderen vaak saai. Het wandelen van “Het Kabouterpad” vinden ze gelukkig wel leuk. Tijdens het wandelen van de route kom je een bord tegen met de opdracht: “Zoek de volgende dieren tot aan het volgende bord.”

Welke dieren kom je dan tegen en in welke volgorde?

1 Haas / konijn

2 Eekhoorn

3 Egel

4 Muis

5 Vogel

2

Regelmatig komen er collectanten voor een goed doel aan de deur. De opbrengst van zo'n collecte kunnen we daarna vaak lezen in 't Hoogeloontje. We kunnen zo bijhouden hoe vrijgevig we in Hoogeloon zijn.

Tel alle opbrengsten die vanaf 1 januari 2018 tot nu zijn gepubliceerd in 't Hoogeloontje bij elkaar op en vermeld hieronder het bedrag.

5501,21 euro

# Hoogeloon

3

Alle huizen in Hoogeloon beschikken over een brievenbus. Veelal de standaard groene bus. Maar er zijn ook mensen die zich willen onderscheiden door een andere brievenbus te kiezen. Maar als je goed kijkt, zie je dat deze bussen ook weer op elkaar lijken. Wat is het adres behorend bij onderstaande brievenbussen?

Loonse kwis 2019



1



2



3



4



5



6



7



8



9



10

1 Hoogcasteren 8

2 Akkerstraat 12

3 Breestraat 9

4 Hoofdstraat 72 B

5 Bieshof 19 /  
Tollande 19

6 Heuvel 11

7 Brouwerstraat 11

8 Heuvelseweg 21

9 De Tollande 17

10 Torenstraat 2 A

## 4

Je moet het maar weten...

1. Met Hoogeloon kermis was er een eenzame stoel te zien op het kiosk. Welke kleur had deze stoel?
2. In 2018 is men begonnen met de sloop van de Ster en de Attent. Op welke datum zijn hiervoor de eerste hekken geplaatst?
3. Tijdens de Vossenjacht ging men op zoek naar speciaal verklede mensen. Welke kleur had de letter die een vos in vulde op het zoekpapier?
4. Bart Vermeulen en Toon Sandkuyl reden met een auto van Antwerpen naar Banjul. Hoeveel auto's reden er nog meer mee in de colonne?
5. Onder welk nummer was Prins Bonkers te zien in de Prinsenfoto van het ED?

1 Rood

2 4 mei 2018

3 Paars

4 39 auto's

5 58

## 5

Opnieuw een oude foto. Deze huwelijksfoto is speciaal voor Hoogeloon. Wij willen van jullie weten (1) waarom dat zo is en (2) in welk jaar deze mensen getrouwd zijn.

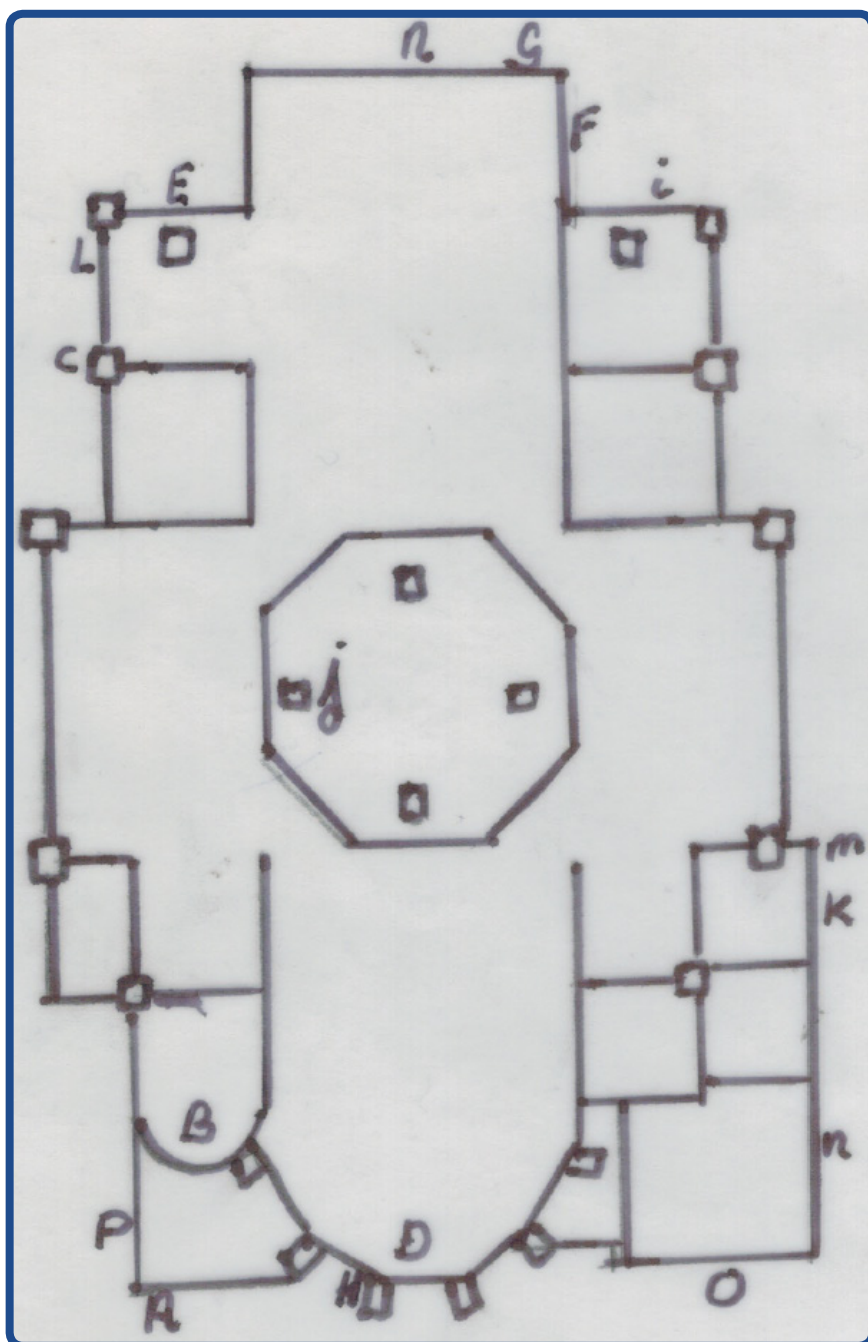
1 Laatste huwelijk in het oude gemeentehuis in Hoogeloon

2 1964



6

Als je het nieuws in de kranten leest over de leegloop van de kerk, vraag je je af wat er op termijn met onze Hoogeloonse kerk gaat gebeuren. Het is een mooi gebouw zo midden in het centrum. Heb jij onze kerk al wel eens goed bekeken? Bij de bouw zijn er allerlei mooie details aangebracht. En ook later zijn er nog onderdelen aan toegevoegd. Onderstaande foto's zijn details van de Sint Pancratiuskerk. Schrijf bij elke foto de letter die de juiste locatie aangeeft op de plattegrond.





# Hoogeloon



1 D

2 A

3 N

4 B

5 I

6 F

7 G

8 O

9 P

10 K

7

In 1952 is Fanfare Wilhelmina op concours geweest in Horst. Voor vertrek naar Horst is onderstaande groepsfoto gemaakt. Hoeveel personen op deze foto zijn er nog in leven?



1 11

8

In Hoogeloon zeggen we “ons kent ons”. Maar is dat ook zo? We hebben voor jullie een mystery guest. Deze persoon staat van 20.30 tot 21.30 uur boven D’n Anloop klaar om vragen te beantwoorden. Let op: er wordt alleen met “ja” of “nee” geantwoord. Neem uit de tas het formulier voor deze vraag; er is ruimte om vijf vragen te stellen aan de mystery guest. Ga naar de mystery guest om antwoorden te krijgen. Door het stellen van goede vragen komen jullie vast tot de juiste naam van deze inwoner van Hoogeloon.

1 Anke Vromans

# Hoogeloon

9

De technische ontwikkeling heeft in de landbouw niet stil gestaan. De ouderen onder ons weten nog dat het vroeger wel anders was. We hebben tien foto's van voorwerpen die vroeger in de landbouw gebruikt werden. Geef ons de juiste benaming.

Loonse kwis 2019



1



2



3



4



5



6



7



8



9



10

1 Zelfbinder

2 Zaaimachine

3 Vliegenspuit

4 Schoefelmachine

5 Melkklauw /  
melkmachine

6 Hoogkar

7 Aarde kar

8 Dorsvlegel

9 Bietentang

10 Aardappel-  
anaarder

## 10

Hieronder staan twintig namen van Hoogeloonse inwoners. Zet bij elk 'thema' vier personen die hier bijhoren. Puzzel net zo lang totdat het klopt; dus in elk vak één naam?

Bart V

Elisa van K

Joop W

Tonny T

Nick S

Gerrie W

Piet G

Jan van de P

Elly B

Rob B

Angelique L

Noa S

Freek van de H

Nicole S

René J

Fred van de H

Wim de L

Mari G

Rian C

Rinus P

1 Krant

1 Bart Vermeulen

1 Gerrie Willems

1 Jan van de Putten

1 Rob Bolte

2 2000

2 Nick Somers

2 Elisa van Kruijsdijk

2 Freek van de Huygevoort

2 Noa Swaanen

3 Hoogeloonse ondernemers

3 Joop Waterschoot

3 Rene Jansen

3 Mari Gooskens

3 Rian Castelijns

4 Voorzitters

4 Tonny Tholen

4 Wim de Laat

4 Nicole Swaanen

4 Angelique Lamers-Gerritsen

5 Lintje

5 Elly Beijens

5 Rinus Peeters


5 Piet Graat

5 Fred van de Huygevoort



Waarom ze precies blauw zijn, weet men niet. Misschien waren dat de goedkoopste kleurpotloden op dat moment... Maar dat ze populair zijn, is duidelijk. Smurfen. En niet alleen in ons land!

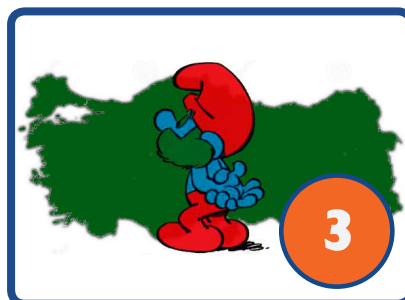
Elke smurf staat op een land. Hoe heeft de betreffende smurf in de taal van dat land?



1



2




3



4



5



6



7



8



9



10

1 Harmony Smurf

2 Burlone

3 Sirin Baba

4 Schlaubi Schlümpf

5 La Schtroumpfelle

6 Pitufo grunon

7 Ciamajda

8 Költröp

9 Smoulicek

10 Schtroumpf Costaud / potige smurf

**12**

Een blauwdruk. Die maakten we in de tijd vóór scanners en kopieerapparaten met carbonpapier. In jullie tas zit een velletje carbonpapier en de helft van een tekening. Je kunt deze tekening compleet maken door op zoek te gaan naar een team dat de andere helft heeft. Vijftig procent kans. Met het carbonpapier kun je die andere helft overnemen en zij die van jullie. Daarna plak je de complete tekening hieronder.

13

Blauw, dat is ook de belastingdienst. Leuker kunnen ze het niet maken, wel gemakkelijker. Maar dat geldt niet voor het btw-tarief. Als leek zie je door het bomen het bos niet meer.

Hieronder tien producten; onder welk btw-tarief vallen ze?

1. Ik betaal voor het impregneren van rondhout, dat ik onbewerkt heb aangekocht
2. Ik laat mijn elektrische fiets repareren
3. Ik koop zaagsel voor in mijn paardenstal
4. Ik laat bij de kapper harextensions zetten
5. Ik koop een werkboek voor mijn studie
6. Ik koop bij de apotheek een tube tandpasta
7. Ik koop een ijsje Vodka Energy
8. Ik betaal Carry Slee om haar boeken te komen signeren
9. Ik koop kerosine voor mijn vliegtuig, waarmee ik internationaal passagiersvervoer
10. Ik koop spiering om te gebruiken bij het vissen

1 21

2 9

3 21

4 21

5 9

6 21

7 9

8 0

9 0

10 21

14

Ze doen mee aan de optocht en zorgen steeds voor een leuk optreden tijdens de Bakkusavonden in Loon. Het genootschap "Onder den Blauwe Hoed". Hoeveel oud-prinsen deden er mee aan hun act in (1) 2012 en in (2) 2017?

1 23

2 22

## 15

Blauwe kleding? Dan hebben we het natuurlijk over de spijkerbroek. Ieder merk doet zijn best om toch net even anders te zijn. Van welk merk zijn deze spijkerbroeken?



1



2



3



4



5



6



7



8



9



10

1 Levi

2 Diesel

3 Wrangler

4 G-start raw

5 Kuyichi

6 LTB

7 Denham

8 Jack and jones

9 Tommy Hilfinger

10 Lee



16

Niets mooier dan een een strak blauwe lucht vinden sommige mensen. Maar om naar te kijken en te dromen zijn de verschillende wolken aan de lucht toch nog net iets mooier vinden wij. Er bestaat zelfs een overzichtelijke wolkenclassificatie om de verschillen te kunnen aangeven. Hieronder staan vijf foto's; geef aan welke omschrijving klopt.

- |    |                   |             |              |
|----|-------------------|-------------|--------------|
| A. | Hoge wolken       | cirrus      | fibratus     |
| B. | Hoge wolken       | cirrus      | spissatus    |
| C. | Middelhoge wolken | altocumulus | stratiformis |
| D. | Middelhoge wolken | altocumulus | lenticularis |
| E. | Lage wolken       | cumulus     | mediocris    |



1



2



3



4



5

1 B

2 D

3 C

4 A

5 E

## 17

Waar zouden we zijn zonder blauw op straat? Dat was echt lastig bij het vinden van de weg. Maar zelfs al staan er borden, is het niet altijd gemakkelijk om te weten waar we zijn. In welke straat vind je onderstaande borden?



1 *Andreasstraat*

2 *Hobbel / Broekhovenseweg*

3 *Doornboomstraat*

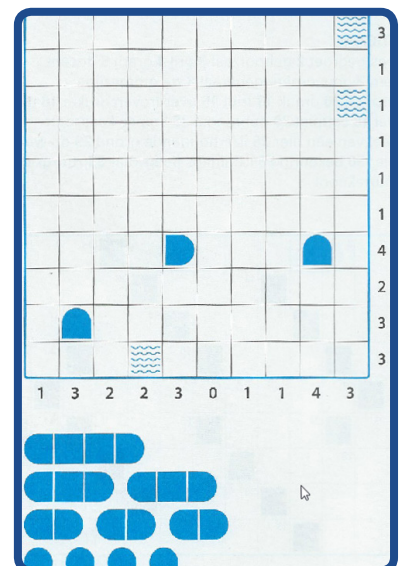
4 *Broekeindsedijk*

5 *Hoofdstraat / Valensplein*

## 18

De puzzel voor deze categorie blauw: een spelletje Zeeslag.

De schepen liggen horizontaal of verticaal en ze raken elkaar nergens, ook niet diagonaal. De cijfers buiten het diagram geven aan hoeveel scheepsdelen er in de betreffende rij of kolom te vinden zijn.



19

Op 21 maart vorig jaar werd Kwismaster Bart vader van een dochter. Voor deze categorie was het fijner als hij vader was geworden van een zoon. Dan had hij immers getrakteerd op blauwe geboortemuisjes.

1. Als je honderd mensen wil trakteren op een beschuit met muisjes; hoeveel rollen Bolletje echte beschuit moet je dan kopen?
2. Wat betaal je dan in totaal voor deze rollen beschuit bij de Jumbo?
3. Als je honderd mensen wil trakteren op een beschuit met muisjes; hoeveel pakjes van De Ruijter Blauwe en Witte Muisjes heb je dan nodig als je hun portie verdeling aanhoudt?
4. Wat betaal je in totaal voor deze pakjes bij de Jumbo?
5. Hoeveel muisjes (het aantal) zitten er in één pak De Ruijter geboortemuisjes?

1 8 rollen

2 6,40 euro

3 6 pakjes

4 8,94 euro

5 9.500 tot 10.500

20

Van de blauwe knoop zijn, verwijst naar het blauwe insigne dat de mensen droegen die zich in de tweede helft van de negentiende en de eerste helft van de twintigste eeuw inzetten om het drankmisbruik tegen te gaan. Wat dat betreft lijkt de tijd zich te herhalen. Anno 2019 moeten alle vrijwilligers achter de bar van een sportkantine een certificaat halen om verantwoord alcohol te schenken. Zou u slagen voor deze test?

Vraag 1

Welke van de volgende factoren zijn van invloed op het effect dat alcohol op iemands lichaam heeft?

- I. Geslacht en lichaamsgewicht
- II. De gewenning aan alcohol
- III. De stemming van een persoon
- IV. Een volle maag

**Vraag 2**

Is het strafbaar om aan iemand die in kennelijke staat (wanneer duidelijk is te zien dat iemand dronken is) van dronkenschap verkeert alcohol te schenken?

- I. Ja, je bent strafbaar volgens de Wegenverkeerswet
- II. Ja, je bent dan strafbaar, volgens het Wetboek van Strafrecht
- III. Nee, iedereen is verantwoordelijk voor zijn eigen gedrag

**Vraag 3**

Welk van de volgende documenten horen aanwezig te zijn in de sportkantine en dient men bij een controle van de gemeente te kunnen tonen?

- I. Alcoholbestuursreglement, Vergunning voor de uitoefening van het horecabedrijf
- II. Alcoholbestuursreglement, Vergunning voor de uitvoering van het horecabedrijf en Registratielijst geïnstrueerde barvrijwilligers (IVA)
- III. Alcoholbestuursreglement

**Vraag 4**

Waarin zijn de sluitingstijden van de kantine vastgelegd?

- I. In de Drank- en horecawet
- II. In de regels van de sportbond
- III. In de vergunning voor de uitoefening van het horecabedrijf

**Vraag 5**

Welke wet overtreedt men door een 17-jarige jongere alcohol te schenken?

- I. De Jeugdwet
- II. Artikel 252 uit het Wetboek van Strafrecht 'toedienen van bedwelmende drank'
- III. Drank- en Horecawet

**1** Allemaal**2** II**3** II**4** III**5** III

# 21

Over de hele wereld wordt tegenwoordig de tekstverwerker Microsoft Word gebruikt, nadat we eerst werkten in WordPerfect. Doordat er zoveel verschillende lettertype zijn, kun je er toch gemakkelijk een persoonlijk document van maken.

In welke vijf verschillende lettertypes staat hieronder De Loonse Kwis geschreven?

1. *De loonse kwis*
2. ☐☐ ◡◡◡◡◡◡◡ ◡◡◡◡◡
3. De loonse kwis
4. De loonse kwis
5. **De loonse kwis**

1 Lucida handwriting

2 Pigpen cipher

3 Verdana

4 Papyrus

5 Impact

# 22

De postcodeloterij is populair. En ook in Hoogeloon vallen wel eens prijzen. Helaas nog geen bedragen die leiden tot een echt huis. Maar wel van die prachtige theedozen, waarop mooie huisjes staan getekend. Hoeveel oranje huisjes staan er op deze theedoos?

16

### 23

In een aantal sporten hebben we op mondiaal niveau onze Nederlandse toppers. Vorig jaar was Max Verstappen een sportman die meetelde in de Formule 1-klasse. Hij reist daarvoor nogal wat af.

Hoeveel kilometer moet hij dit jaar reizen om alle circuits waar hij een grand prix moet rijden te bezoeken? We kennen het programma van alle grand prix dit jaar en we weten dat hij vanaf zijn woonadres vertrekt en er tenslotte ook terug komt. De andere reizen die hij maakt kennen we niet dus daar kunnen we niet naar vragen. Hemelsbreed.

122000 - 129000 kilometer

### 24

Televisieprogramma's worden vaak aangekocht uit andere landen maar ook Nederlandse programma's scoren soms erg goed. Zo was John de Mol succesvol met het programma "The Voice of.....". Waardoor het nu in heel veel landen te zien is.

Op onze website staan vijf winnende liedjes van een seizoen "The voice of..." In welk land was dit het winnende lied en wie is de zanger(es)?

1 Hayk Ghoelyan  
Armenië

2 Luka Cruysbergh  
België

3 Mitoy Yonting  
Filipijnen

4 Marta Galuszewska  
Polen

5 Chris Blue  
USA

## 25

Het brouwen van bier is voor steeds meer mensen een mooie hobby. Zo kun je bij de slijter in Bladel nu ook al bier uit Reusel kopen. Dit bier wordt in drie soorten aangeboden. Enkel, Dubbel en Tripel. Dit is dezelfde indeling als er door de Trappisten ook aan hun bier wordt gegeven. Over Trappisten gesproken, ze hebben nogal wat kloosters, maar in welke vijf landen wordt er “Trappistenbier” gebrouwen? Zet de landen in volgorde van klein naar groot.

1 België

2 Nederland

3 Oostenrijk

4 Italië

5 USA

## 26

Wat is de wereld mooi en wat is er veel te zien!  
Naar welk land moet je als toerist om onderstaande  
bezienswaardigheden te bezichtigen?



1 Frankrijk

2 USA

3 USA

4 Nieuw Zeeland

5 Senegal

## 27

Als je in een koninkrijk woont, blijft het staatshoofd vaak vele jaren hetzelfde. Woon je echter in een republiek dan kan het zijn dat je tijdens je leven te maken krijgt met meerdere staatshoofden. Hieronder staan er een aantal; sommigen zijn nu aan de macht en anderen waren dat in het verleden. Geef aan in welk land ze president zijn of zijn geweest.



1 Finland

2 Japan

3 USA

4 Chili

5 China

6 Rusland

7 Polen

8 Congo


9 IJsland

10 Mauretani



28

In de Efteling kun je heel gemakkelijk een reis om de wereld maken. Inderdaad, in het Carnaval Festival! Heerlijk in een karretje rondkijken met dat niet te missen deuntje erbij. Je zat er vast al wel eens in. Zet de letters A tot en met E onder de foto's, zoals je ze tegenkomt tijdens je rit.



4 A

5 D

1 C

2 B

3 E

## 29

We zijn een reislustig volk. We komen dan in verschillende restaurants waar we gerechten op de kaart zien staan, die typisch zijn voor dat land. Welke gerechten kun je ontcijferen als je de letters in een andere volgorde zet?

1. reptoame
2. stafledrup
3. nnlloeniac
4. laazeurz
5. reitzowoa

1 *Tempoera*

2 *Apfelstrudel*

3 *Cannelloni*

4 *Zarzuela*

5 *Waterzooi*

## 30

Straatmeubilair en meubels geschikt voor openbare gebouwen. Elk land kent zijn eigen klassiekers. Hieronder (straat-)meubilair uit Nederland. Welke hoort er niet bij en waarom niet?



3

*Deze is niet van de onlangs overleden ontwerper Friso Kramer*

31

Deze vogels hebben een verwijzing naar een jubileum in hun naam. Op die manier kun je aan elke vogel een getal koppelen. Aan jullie de vraag welk getal?



1 50

2 5

3 55

4 30

5 40

32

Tijdens de Olympische Spelen zitten veel mensen voor de buis en is het feest bij elke gouden medaille. Bij de Olympische Winterspelen zijn vooral de schaatsliefhebbers alert. Wie kent niet onze Ard en Keesie, maar ook in de huidige tijd zijn er verschillende topschaats(t)ers. Één van hen won zelfs vijf gouden Olympische medailles.

Zoek uit op welke afstanden hij/zij de sterkste was tijdens de spelen en welke tijd werd er toen genoteerd? Vul het totaal van deze tijden in?

14.52.06

## 33

Feest was het bij de echtparen, die hun gouden huwelijksfeest mochten vieren. Hun huis werd versierd met een mooie boog. Dit is een jarenlange traditie die in Hoogeloon in stand wordt gehouden. In 2018 en 2019 (tot nu) is er menig feestje gevierd. Wij hebben enkele feestelijke bogen hier afgebeeld. Geef bij elke foto het juiste adres waar dit gevierd werd.



1



2



3



4



5



6



7



8



9



10

1 Brouwerstraat 22

2 Den Bogerd 24

3 Vessemsweg 22

4 Hoofdstraat 48

5 De Tollande 41

6 Vessemsweg 29

7 Jan Goossenstraat 27

8 Akkerstraat 7

9 Vessemsweg 19

10 Dijkmeesterstraat 36

## 34

Je kan natuurlijk overal een feestje van maken, sommige mensen geven al een feestje als ze een kamerplant verzet hebben.  
Over kamerplanten gesproken, wij hebben hier een paar foto's van kamerplanten. Wat is de latijnse naam van elke plant?



1



2



3



4



5

1 *Spathyphillum*

2 *Phlebodium*

3 *Peperomia obtusifolia*

4 *Sempervivum*

5 *Alocasia-calidora*

## 35

De vijfde editie! Best bijzonder vinden wij. Daarom was er in de foyer van D'n Anloop iets feestelijks aangebracht bij het ophalen van de quizboeken!

Wat zorgde voor het feestelijke tintje (1)? Hoeveel waren het (2)?

1 *Ballonnen*

2 *7 of 4*

## 36

Dit is echt een vraag voor een kind, die weet namelijk nog goed hoe een echte kroon eruit hoort te zien. Op de basisschool is het altijd een feestje als je jarig bent. Vooral in de lagere groepen wordt er nog veel aandacht aan besteed. Omdat wij als Kwismasters nu voor de vijfde keer deze kwis gemaakt hebben, voelen wij ons ook een beetje jarig. Wij willen daarom graag een kroon, zoals jarige kleuters die krijgen. Natuurlijk moet er het cijfer 5 op staan. Deze feestelijke kroon graag voorzien van teamnaam inleveren met het quizboek.

## 37

Carnaval is in Hoogeloon een echt dorpsfeest. Dat blijkt elk jaar weer wanneer je foto's van jong en oud terugziet in de carnavalskrant. De mensen zijn grappig, bijzonder of juist simpel verkleed. En wat te denken van de verschillende hoofddeksels.

In de carnavalskrant met Prins Bonkers voorop staan verschillende mensen met een opvallend hoofddeksel.

- 1 Op welke pagina staat iemand met een hoge hoed op? Er staat ook een foto in van enkele heren met een hoofddeksel van binnenbanden.
- 2 Op welke pagina?
- 3 en 4 Wie zijn deze heren?
- 5 'Robbies' adverteert in deze krant! Als oud prins en ex-bestuurslid dragen Rob en Simone de carnavalsclub een warm hart toe. Dat komt ook tot uitdrukking in het aantal advertenties. Hoeveel advertenties voor Robbins staan er in de carnavalskrant?

1 Bladzijde 18

2 Bladzijde 27

3 Rinus Peeters

4 Cor Ansems

5 6

## 38

Waarschijnlijk was het al opgevallen: het quizboek is feestelijk versierd in verband met ons jubileum. Door het hele boek verspreid staan er feestartikelen afgebeeld.

Hoeveel stuks van elke feestartikel hebben jullie geteld?

**1** Hoedjes: 8

**2** Feesttoeter: 5

## 39

Bij een jubileum wordt er ook altijd even teruggekeken naar de afgelopen jaren. Voor deze vraag willen wij dat ook met jullie doen.

Zoek in de voorgaande edities de vragen die horen bij onderstaande antwoorden; wij willen weten in welk jaar deze vraag in het quizboek stond en welk nummer de vraag had.

1. 50,2 km
2. monopoly
3. nerine
4. 157,90
5. Rijnwoude
6. Tokyo
7. 18,56
8. Custard
9. 186
10. Durk de Jong

**1** 2014  
Vraag 21

**2** 2017  
Vraag 14-4

**3** 2015  
Vraag 51-4

**4** 2016  
Vraag 57

**5** 2015  
Vraag 92-5

**6** 2017  
Vraag 42-2

**7** 2014  
Vraag 81

**8** 2016  
Vraag 75-3

**9** 2015  
Vraag 63

**10** 2016  
Vraag 27-4

Zoals in elke categorie hieronder een Quizflippine om op te lossen. Veel plezier!

1. Ramp als je dit dier in huis hebt
2. Deur omlijsting
3. Boomvrucht
4. Hieraan kun je de leeftijd van een boom zien
5. ....v.d. Heijden
6. Gooskens....
7. Plaatvormig composietmateriaal op gebouwd uit een oneven aantal houtfineerlagen
8. Dragende balk in het dak
9. Bevolkingsgroep waarvan planken gezaagd kunnen worden
10. Kunststroming van o.a. architectuur tussen 1890 en 1914
11. Schot waardoor je in een ruimte komt
12. Onderdeel van hang- en sluitwerk
13. Boom
14. Stokje met zwavelkop
15. Klusser van eigen huis en tuin
16. ... de Bouwer
17. Timmermansgereedschap
18. Ed en.....

<b>1</b>	25	18	8	20	18		<b>11</b>		14	19	
<b>2</b>	6	7		17	26	20	7	5	5	3	
<b>3</b>	21	12	8	14		<b>12</b>	8		26	16	8
<b>4</b>	23	5	6			10	22		<b>13</b>	15	13
<b>5</b>		28	16	<b>14</b>		29		10	3		
<b>6</b>	17	18	24		<b>15</b>	20	17		30	5	11
<b>7</b>		7	12		27	28		<b>16</b>	25		25
<b>8</b>		18	7		26	22		<b>17</b>	1	2	
<b>9</b>	11		6	30	<b>18</b>	9	10	27		21	
<b>10</b>	4	29			16		11		10	27	

1	2	3		4	5	6	7		8	9	10	11	
12	13		14	15	16		17	18	19	20	21	22	
23	24	25	26	27	28	29	30						

**I** Vijf jaar kwis is een houten jubileum



41

Iedereen heeft op school wel eens een poster zien hangen van het periodiek systeem. De chemische elementen die je hierop terug kunt vinden hebben allemaal verschillende eigenschappen. Naar welke chemische elementen zijn wij op zoek? Sorteert ze op alfabetische volgorde.

- De atoomnummers van de chemische elementen zijn te ontbinden in de volgende priemfactoren: 2, 2, 2, 2, 2, 3, 7, 7, 13, 13, 17.
- De som van vijf smeltpunten is 1.371.
- Het vermenigvuldigen van de kookpunten levert -316.444.546.908.672 op.

1 Aluminium

2 Polonium

3 Seleen

4 Stikstof

5 Telluur

42

Bij drie van de Kwismasters staat een laptop voor de raam. Op iedere laptop is een repeterende verzameling van afbeeldingen te zien. Niet alle laptops laten echter gelijktijdig een afbeelding zien. Er is echter één moment in de cyclus waarop er op alle laptops tegelijk een afbeelding wordt weergegeven. Deze drie afbeeldingen zijn gezamenlijk nodig om het voortbestaan van ... te garanderen. Waar zijn we naar op zoek?

1 Vuur

43

Een paar vragen voor de bollebozen in jullie team.

1. Wij willen graag de hoeveelheid energie weten die er wordt gebruikt door een elektriciteitscentrale met een rendement van dertig procent om honderd megajoule aan elektriciteit leveren.
2. Er draaien rotsblokken tussen de banen van Jupiter en Mars in een baan om de zon. Hoe noemen we die?
3. Als je een massa van 1000 gram en een massa van 2500 gram tegelijk laat vallen in een vacuüm van dezelfde hoogte, welke zal dan als eerste de grond raken?
4. Als je een raam hebt van 200 cm bij 200 cm; Hoe groot is dan de kracht die door de lucht op dit raam wordt uitgeoefend?
5. Wat kost een half uur stofzuigen nog meer naast een hoop transpiratie? Ga hierbij uit dat je dat doet met een stofzuiger die werkt op 6 ampère en ga verder uit van de gemiddelde stroomprijs.

1 333MJ

2 Planetoiden

3 Tegelijk

4  $4,1 \cdot 10^5$  N

5 0,1581 euro

Bij één van onze Kwismasters wordt al jaren uit hun zelf geoogste rode en witte druiven wijn gemaakt. Door het warme weer hebben de druivenstokken afgelopen jaar 28 kg witte druiven opgeleverd. Na persen leverde dit 26,0 kg druivensap op.

Om hieruit wijn te maken moet van dit sap eerst de zuurgraad en de dichtheid bepaald worden. De zuurgraad was 6 gram wijnsteenzuur per liter en de dichtheid 1,058 kg/l. M.b.v. de dichtheid kan de wijnmaker berekenen hoeveel suiker moet worden toegevoegd om een wijn te krijgen met 12 vol.% alcohol.

Meteen na het persen moet aan het sap sulfiet worden toegevoegd. Sulfiet is een conserveermiddel, het werkt zowel tegen micro-organismen als tegen oxidatie. Het zorgt ervoor dat wijn niet gaat hergisten en ook niet snel bruin wordt en slecht gaat smaken.

Per 10 liter sap moet 1,0 gram kaliummetabisulfiet worden toegevoegd. Hieruit ontstaat bij oplossen 0,57 gram sulfiet.

Bij het afwegen van kaliummetabisulfiet heeft de wijnmaker een weegfoutje gemaakt. Bij controle blijkt iets minder namelijk 2,50 gram kaliummetabisulfiet te zijn toegevoegd. Om de suikers om te zetten in alcohol wordt nu aan de met een vloeistofslot afgesloten fles de juiste hoeveelheid gist en voedingszout toegevoegd.

Na een aantal weken is alle suiker omgezet in alcohol en moet de wijn gescheiden worden van het bezinksel. Dit gebeurt door over te hevelen naar een andere fles. Nu wordt per 10 liter sap 0,57 gram kaliummetabisulfiet toegevoegd.

Als de wijn is gestabiliseerd moet dit overhevelen en toevoegen van kaliummetabisulfiet nog eenmaal worden herhaald.

Omdat teveel sulfiet in wijn soms hoofdpijn en andere klachten kan geven wordt geadviseerd om de hoeveelheid sulfiet onder de 0,70 mg sulfiet per kg. lichaamsgewicht te houden.

Hoeveel glazen van bovenstaande wijn (150 ml./glas) mag je dan op een feestje drinken zodat je nog net onder de bovenstaande norm blijft?

Ga uit van een lichaamsgewicht van 75 kg. en dat gedurende het feestje de sulfiet niet afbreekt.

I 2,5 - 2,9 glazen

### 45

Hieronder vind je een aantal eenvoudige, scheikundige vragen.

1. Hoe noem je atomen welke evenveel protonen hebben, maar waarbij het aantal neutronen verschillend zijn?
2. Ieder blikje Guinness bevat een balletje met daarin een gas. Dit gas komt vrij zodra het blikje wordt geopend. Welk gas zit er in dit balletje?
3. Wanneer je water en slaolie bij elkaar giet zul je na verloop van tijd zien dat alle olie op het water drijft. Wanneer je al het water laat weglopen via een kraantje aan de onderzijde, houd je alleen olie over. Hoe heet deze techniek om twee vloeistoffen te scheiden?
4. Welk onzichtbaar gas vind je terug in fluorescerende lampen?
5. Deze grondstof wordt voornamelijk in Congo uit de grond gehaald. Het is zilvergrijs van kleur maar kan glas een blauwe kleur geven. Over welke grondstof hebben we het hier?

1 *Isotopen*

2 *Stikstof*

3 *Decanteren*

4 *Argon*

5 *Kobalt*

### 46

Ga lekker aan de slag. Zet twee stoelen minimaal 0,6 meter van elkaar en bouw een brug van de ene naar de andere stoel. Je gebruikt daarbij alleen de spaghetti en de marshmallows uit de tas. (We hopen dat ze ondertussen niet zijn opgegeten door je mede-kwis-genoten!) Stuur wanneer de brug klaar is een foto naar ons mail-adres. Zorg dat je teamnaam op de foto staat.

47

Bij café De Bakker moeten de lege flessen opgeruimd worden. Er staat een bak van 100 bij 100 centimeter. Hoeveel flessen met een diameter van 10 cm passen er maximaal op de bodem van deze bak wanneer de flessen rechtop worden geplaatst?

1 106

48

De mensheid kent vele natuurkundigen en scheikundigen. Nederland kent enkele beroemde natuurkundigen en scheikundigen. Daarnaast zijn er natuurkundigen en scheikundigen die een Nobelprijs krijgen voor het werk wat zij verrichten. Hieronder zie je drie personen die een Nobelprijs hebben gewonnen. Verder zie je ook drie Nederlanders. Naar welke vier personen zijn wij op zoek?



1 Albert Einstein  
Robbert Dijkgraaf



2 Ben Feringa  
Andre Geim

49

Drie enigszins oudere dames zitten in D'n Anloôp. Ieder van hen krijgt van Frank een hoedje op haar hoofd.

De kleur van de hoedjes (rood of blauw) wordt door Frank bepaald door het opgooien van een munt.

Niemand kan de kleur van haar hoedje zien, alleen de kleuren van de anderen.

Zodra Frank een seintje geeft, moeten de dames tegelijk hun eigen kleur hoedje raden, maar ze mogen ook "Ik sla over" zeggen. Onderlinge communicatie is uit den boze.

Ze krijgen van Frank allemaal een glaasje port als er niemand verkeerd gokt en ten minste een dame de kleur van haar hoedje goed gokt.

Na de eerste keer hebben de dames tijd voor overleg en stelt Frank de vraag nog een keer.


Hoeveel procent kans hebben de dames nu op een gratis glaasje port? We gaan er van uit dat het heel erg slimme dames zijn.

1 75%

50

Het heeft niets met natuurkunde of scheikunde te maken, maar ook in deze categorie moet een puzzel. Daarom een onvervalste echte doolhof puzzel.




Markeer het met een rode pen of stift de weg naar de uitgang.



51

De meeste mannen houden ervan: borsten. Hieronder vinden jullie tien beeldschone dames. Wat is hun Nederlandse cupmaat?

Loonse kwis 2019



1 Jennifer Lopez  
75C

2 Taylof Swift  
75A

3 Gigi Ravalli  
75B

4 Eva Longoria  
70B

5 Goedele Liekens  
75D

6 Heidi Clum  
75C

7 Nicolette van Dam  
70C

8 Cameron Diaz  
75B

9 Dolly Parton  
90DD

10 Zimra Geurts  
75D



## 52

In Nederland noemen we het kwark, in Vlaanderen echter platte kaas. In de tas zitten vijf potjes met zuivelproducten. Kunnen jullie ons vertellen welke zuivelproducten wij voor jullie hebben verpakt?

1 *Crème fraîche*

2 *Zure room*

3 *Kwark*

4 *Skyr*

5 *Yoghurt*

## 53

Songteksten lijken vaak heel plat, maar hebben eerder een diepere lading. Op de site [www.loonsekwis.nl](http://www.loonsekwis.nl) vinden jullie vijf fragmenten, bestaande uit ieder drie nummers. Welke diepere lading is de overeenkomst tussen deze 3 nummers?

1 *HIV / Aids*

2 *Transgender*


3 *Abortus*

4 *Genocide*

5 *Impotentie*

54

Iedere woensdag staat hij op het Valensplein: de visboer. Een heerlijk gebakken visje of een portie kibbelingen. Maar eigenlijk gaat er niets boven een heerlijke gebakken scholletje. Tja platvissen, op ons bord herkennen we ze waarschijnlijk wel, maar zijn ze ook voor jullie herkenbaar zonder ravigottesaus?



1 Tarbot

2 Schol

3 Tong(schar)

4 Atlantische Heilbot

5 Bot

6 Dikrugtong

7 Griet




8 Groenlandse Heilbot

9 Schar

10 Tong

55

Avond aan avond zitten schouwburgen, theaters of kleine zaaltjes er vol mee. Mensen die schaterlachen om grappen en grollen van diverse cabaretiers. De ene spitsvondig, de ander juist weer plat. Op de volgende pagina vinden jullie tien citaten van cabaretiers over de gehele wereld. De ontbrekende woorden vinden jullie daaronder. Zet daarna het juiste citaat bij de betreffende foto.



## Plat

- A Mijn ... werkt, ik ben al drie ... kwijt
- B Ik dank ... dat ik niet ...
- C De ... was klein maar ...
- D ...: mensen naar een ... vragen die ze niet hebben
- E. Wat hebt u tegen ... ? Die ... doen toch niets.
- F Als ik ... ga doen ga ik met de ..., omdat ik niet van die vieze ... in wil ....
- G ... is goed voor je ... Dat weten ... al langer.
- H Alle ... zijn ..., ze zien overal ...!
- I Het ... met ... is dat je nooit weet wanneer je ermee op moet houden.
- J Veel ... praten veel om te ... dat ze niets te ... hebben.

### Ontbrekende woorden

ademen	mensen	konijnen	uitlaatgassen
ambtenaren	groen	tapper	opinieonderzoek
god	boodschappen	sla	milieuactivisten
whiskeydieet	koppels	mening	sexleven
dagen	nietsdoen	kastelein	kleurenblind
probleem	geloof	auto	verbergen
verbergen	zeggen		

1 F

2 B

3 G

4 E

5 D

6 A

7 I

8 C

9 H

10 J

56

Welke ouder kent het niet; je komt bij je vaste supermarkt en er is weer een spaaractie waar je geen nee tegen kunt zeggen. Dat wil zeggen, jij misschien wel, maar je kinderen zeker niet.

Deze maand is er weer een nieuwe spaaractie, dit maal van al onze Hoogeloonse verenigingen. Bij iedere 10 euro aan boodschappen ontvang je een zakje met vijf verschillende plaatjes van leden van een van deze verenigingen. Je kent ze wel, van die stickertjes niet groter dan 5x7,5 cm en nog geen millimeter dik. Platter kan bijna niet. In totaal doen er maar liefst 18 verschillende verenigingen mee aan deze actie en van iedere vereniging kun je 15 verschillende portretten sparen.

Je voelt de bui natuurlijk al aankomen. De actie is nog maar 1 week en je hebt net alle boodschappen gedaan, maar om je kinderen niet teleur te stellen, doe je dan maar wat onzinnige boodschappen om toch de nog 8 ontbrekende plaatjes te kunnen verzamelen. Bij de kassa aangekomen reken je 22,85 af en gaat naar huis met de nieuwe plaatjes.

Wat is de kans (in hele procenten) dat een van de plaatjes een of meerdere van de ontbrekende acht portretten is? Je mag er vanuit gaan dat er oneindig veel plaatjes zijn gedrukt, van ieder plaatje even veel en geheel willekeurig per zakje zijn verdeeld.

26%

1. In Europa is er slechts 1 plaats die 100% perfect in deze categorie thuishoort. Tot welke gemeente behoort deze plaats?
2. Natuurlijk is ook de kerk van deze plaats gewijd aan een heilige. In welke Belgische plaats wordt jaarlijks een processie aan deze heilige gewijd?
3. De staatsregio waartoe deze plaats behoort, behoorde in het verleden tot een heel ander hertogdom. Wat was de hoofdstad van dit hertogdom?
4. Bij het tot stand komen van het land waartoe deze plaats behoort, ligt een akkoord ten grondslag. Welke Nederlander was hierbij betrokken?
5. Deze Nederlander is in het bezit van een unieke koninklijke onderscheiding. Hoeveel nog levende niet-Nederlanders zijn in het bezit van dezelfde koninklijke onderscheiding?
6. Het land waartoe deze plaats behoort herbergt de grootste populatie van een bepaald zoogdier in Europa. Over welk zoogdier hebben wij het hier?
7. Het zojuist genoemde zoogdier behoort tot een familie bestaande uit meerdere soorten. Van de vacht van een overzeese soort worden de hoofddekseksels gemaakt voor de bewakers van een belangrijk gebouw. Welk gebouw wordt door deze heren bewaakt?
8. Het landschap van het land waartoe deze plaats behoort is vrij uniek. Wie was de componist van de soundtrack van de Disneyfilm die in dit land werd opgenomen?
9. Ieder land heeft natuurlijk zijn nationale symbool. Wat is het nationale symbool van dit land?
10. Tot slot de laatste vraag. Dit land herbergt vele watervallen. Hoe lang is de grootste waterval van dit land?

1 Mezica

2 Zoutleeuw

3 Klagenfurt

4 Hans van den Broek

5 37

6 Bruine beer

7 Buckingham Palace

8 Harry Gregson - Williams

9 De olm

10 136 meter

## 58

In Hoogeloon kunnen we er wat van, al sterft het langzaamaan een beetje uit: “plat proaten”. Maar ook in de rest van de Nederlandstalige gebieden wordt er niet altijd ABN gesproken.

Op [www.loonsekwis.nl](http://www.loonsekwis.nl) vinden jullie een 10-tal geluidsfragmenten. Kunnen jullie ons vertellen welk dialect hier gesproken wordt.

1 *West Vlaams*

2 *Limburgs*

3 *Zaans*

4 *Gronings*

5 *Surinaams*

6 *Sallands*

7 *Antilliaans*

8 *Oost Vlaams*

9 *Volendams*

10 *Amelands*

## 59

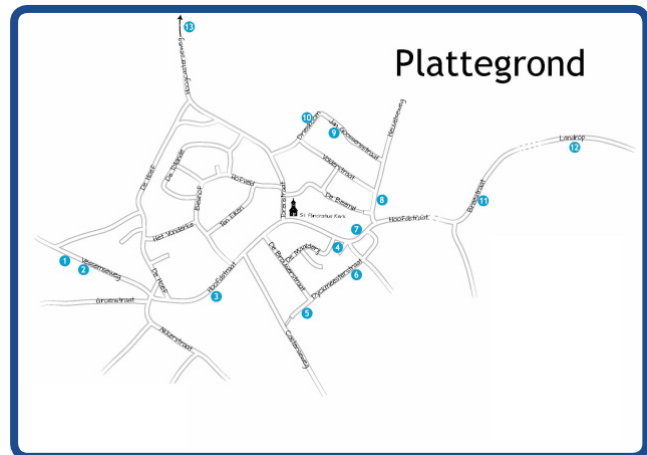
Sommige dingen lijken plat, maar kunnen door het juist te gebruiken een leuk 3D-object worden.

Op de hierop volgende pagina's vinden jullie een aantal uitslagen. Door deze op de juiste manier te bewerken kunnen je een bijzonder object samenstellen. Lever dit 3D object samen met het kwisboek in.

**60**

Bijgaand vinden jullie een zeer specifieke “platte” grond. De kenners zullen deze vast wel herkennen. Wat is de kleur van de voordeur van de volgende nummers op deze kaart?

1. 1
2. 5
3. 8
4. 10
5. 11



**1** 1- (mint) groen

**2** 5 - grijs

**3** 8 - wit / beige / creme

**4** 10 - wit / beige

**5** 11 - groen



**61**

Biodanza. Veel mensen maakten er kennis mee toen een echtpaar uit “Ik vertrek” er zo enthousiast over was. Je wordt er blij en gelukkig van. Dat gunnen wij jullie ook op deze avond. Maak daarom een filmpje waarop minimaal zes mensen uit jullie team aan biodanza doen. Tijdsduur: tussen de 1.47 en 1.58 min. Mail het filmpje onder vermelding van jullie teamnaam.

**62**

Biologie is, na enkele basis-jaren, een keuzevak op de middelbare school. Heeft u er ook examen in gedaan? Haal je voor onderstaande vragen nog een voldoende?

Vraag 1

Je hebt rood of wit of rood-wit runderen. De kleur is een erfelijke eigenschap. Als een raszuiver rood rund wordt gekruist met een raszuiver wit rund zijn alle nakomelingen rood-wit gevlekt. De vachtkleur erft intermediair over.

Twee rood-witte runderen worden met elkaar gekruist. Hoeveel kans heb je op rood-witte nakomelingen?

- A 0%
- B 25%
- C 50%
- D 75%
- E 100%

Vraag 2

Atropine is een stof die gebruikt wordt bij oogonderzoek. Als atropine in een oog wordt gedruppeld, wordt de pupil zo groot mogelijk.

Door het samentrekken van spieren in de iris verandert de pupilgrootte als er atropine in het oog wordt gedruppeld. Welke spieren trekken zich dan samen?

- A Alleen de kringspieren
- B Alleen de lengtespieren
- C Zowel de kringspieren als de lengtespieren

## Vraag 3

De modder uit de grote rivieren kan zich bevinden in de bodem van de Biesbosch. Hierin zitten veel zware metalen welke dan ook in de verschillende planten/bomen en dieren terecht kunnen komen. Het effect op één ieder van hen is verschillend. Welke van de volgende beweringen is juist.

1. ophoping van zware metalen in bevers
2. Met bladverlies in de herfst verdwijnen zware metalen
3. Zware metalen hechten zich alleen aan dierlijke eiwitten

- A Alleen bewering 1  
 B Alleen bewering 2  
 C Alleen bewering 3  
 D Bewering 1 en 2  
 E Bewering 1 en 3  
 F Bewering 2 en 3

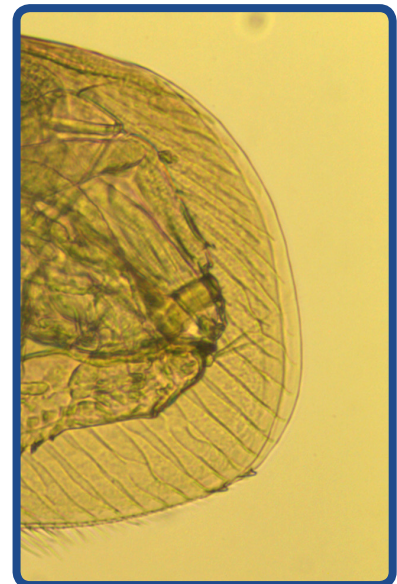
## Vraag 4

Er is na een lange tijd bewezen dat bijen niet doof zijn.

Je hebt een buis met 3 splitsingen. Aan alle 3 de open uiteinden wordt een geluid doorheen verspreid. Ook werd er etenswaar neergelegd.

Onderzoek heeft uitgewezen dat bijna 80% van de bijen, na enkele uren trainen, het etenswaar (welke geurloos is) relateren aan het geluid. Dankzij welke vorm van gedrag konden de bijen het etenswaar relateren aan het geluid?

- A Imitatie  
 B Inprenting  
 C Inzicht  
 D Klassieke conditionering  
 E Operante conditionering



## Vraag 5

Wat is de soortnaam van dit dier?

1 C

2 B

3 D

4 E

5 *Acroperus Elongatus*  
Watervlooi

Oma kunnen we altijd vanalles vragen. Zij weet het vaak beter! Hieronder staan een aantal aandoeningen waar we last van zouden kunnen hebben. Zet het juiste medicijn bij het desbetreffende ongemak en kies daarna welk alternatief oma hiervoor heeft.

Medicijn Apotheek:

(A) Furabid - (B) Broxil - (C) Diclofenac - (D) Dimeticon - (E) Enalapril - (F) Ventolin - (G) Rennie - (H) Mebendasol - (I) Aciclovir - (J) Diltiazem

Alternatief oma:

(K) Komijn - (L) Venkel - (M) Komkommersap - (N) Rauwe zuurkool - (O) Cayenne - (P) Preisap - (Q) Melk met kummel - (R) Peterselie - (S) Heermoesthee - (T) Gedroogde jeneverbessen

- |                              |                      |
|------------------------------|----------------------|
| 1. Hoge bloeddruk            | 2. Urineweginfecties |
| 3. Opgeblazen gevoel         | 4. Gordelroos        |
| 5. Astma                     | 6. Keelpijn          |
| 7. Niersteen                 | 8. Wormen            |
| 9. Overmatige hartkloppingen | 10. Winden           |

1 E - O

2 A - R

3 G - K

4 I - P

5 F - L

6 B - M





7 C - S

8 H - N

9 J - T

10 D - Q

De letters BI en O kom je niet alleen tegen in relatie tot de natuur, maar je kunt ook zomaar de relatie leggen tot een BIOscoop. De onderstaande dvd-hoezen zijn van kinderfilms die eens in de bioscoop gedraaid hebben. Graag willen wij de naam van de film, de datum wanneer deze uitkwam in de bioscoop en de duur van de film weten.



**1** Fietsmug en Dansmug, 9 oktober 2008, 75 minuten

**2** Limo, 8 april 2009, 96 minuten

**3** De Notenkraak, 15 april 2015, 85 minuten

**4** Ted en het geheim van Koning Midas, 14 februari 2018, 85 minuten

**5** Zarafa, 09 oktober 2013, 78 minuten

**6** Pelle en de waterdieven, 7 oktober 2010, 74 minuten

**7** Brammetje Baas, 27 juni 2012, 83 minuten

**8** Sepp, de Wolfenvriend, 14 december 2016, 100 minuten

**9** Lotte en de maansteen, 11 oktober 2012, 75 minuten

**10** Boskampies, 29 april 2015, 102 minuten

65

De zon levert schone energie die nooit opraakt. Ook in Nederland schijnt de zon vaak genoeg om zonnepanelen en zonneboilers aantrekkelijk te maken. Jij kunt de zonnewarmte direct in huis halen door zongericht te verbouwen. Op welke adressen in Hoogeloon zijn ze al duurzaam bezig?



1 Driesboom 13

2 Jan  
Goossensstraat 19

3 Heuvelseweg 15

4 Tollande 31

5 Hoofdstraat 20

6 Dijkmeesterstraat 3

7 Hoofdstraat 70

8 Tollande 1

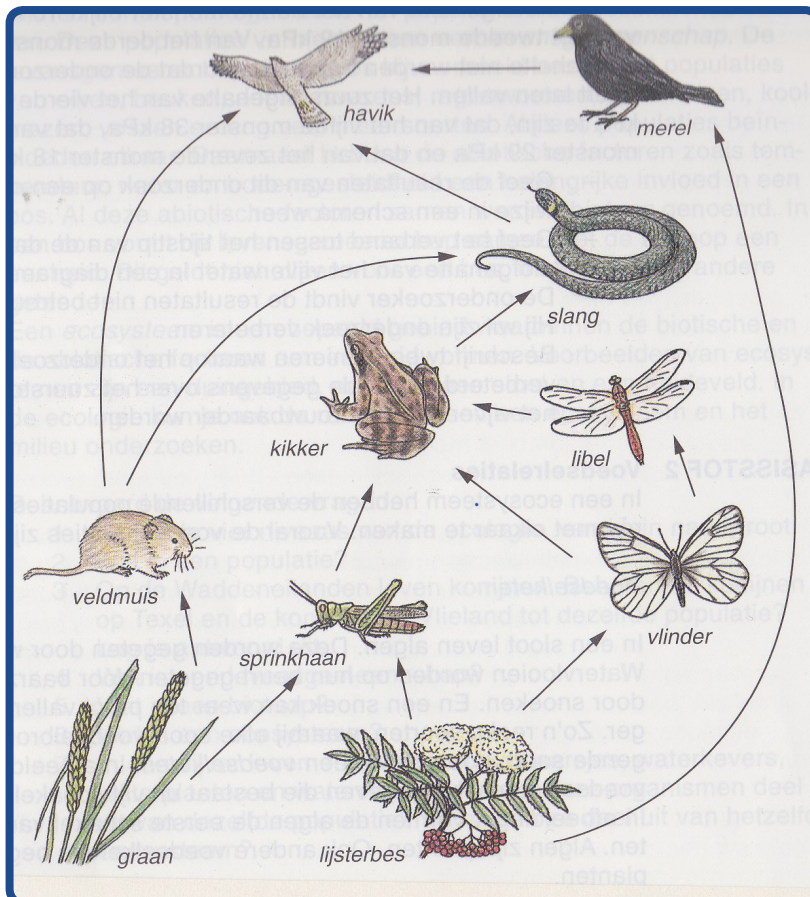
9 Tollande 44

10 Hoogcasteren 16

66

In de natuur is het vaak prima geregeld wanneer de mens er zich niet mee bemoeit. De ene plant wordt opgegeten door een dier en dit dier weer door een groter dier, etc. Zo ontstaat een prachtige voedselketen. Daarover gaat deze vraag.

1. Hoeveel voedselketens zijn hier zichtbaar?
2. Hoeveel consumenten van de 1e orde zijn hier zichtbaar?
3. Hoeveel consumenten van de hoogste orde zijn hier zichtbaar?
4. Welke van deze organismen is reductent?
5. Welke klasse van de vertebraten is niet opgenomen in dit voedselnet?



1 7

2 3

3 1

4 Geen

5 Vissen

67

Bij een heerlijke wandeling zijn we ze vast wel eens tegengekomen. Dierensporen. Komen de sporen van onderstaande dieren je ook bekend voor?




1



2



3



4



5

1 Kokmeeuw

2 Egel

3 Eland

4 Pad / kikker

5 Eekhoorn

68

We hebben er pas voor kunnen stemmen: het waterschap. Zij zorgen voor de waterhuishouding van ons leefgebied. Bij waterschap De Dommel werkt iemand uit Hoogeloon als rivierwerker. Welke vijf verschillende werkzaamheden horen volgens hemzelf tot zijn taken?

1 Maaien van de oever; afvoeren van dat maaisel

2 Baggeren

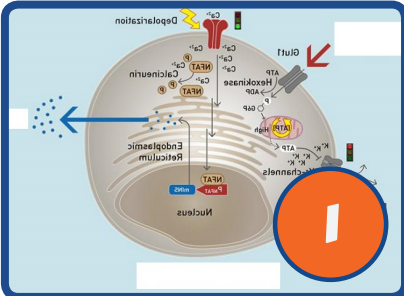
3 Controleren van watergangen, duikers en obstakels

4 Letten op schoon water; geen schuimvorming

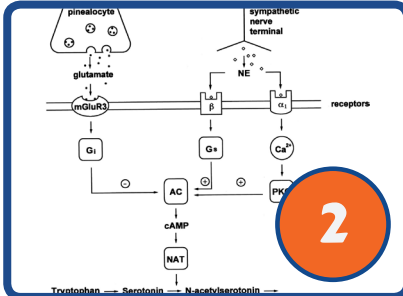
5 Melden van verdachte zaken

69

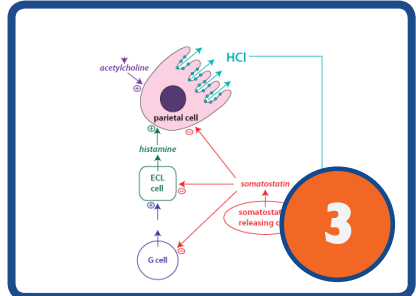
Wat is er nog meer biologisch dan ons eigen menselijk lichaam, wellicht op een pacemaker of een kunstheup na. Hieronder vinden jullie 5 verschillende celprocessen. Kunnen jullie achterhalen in welk menselijk orgaan deze processen zich afspelen?



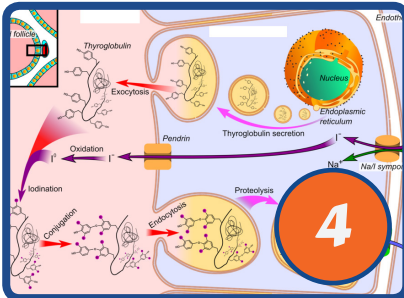
1



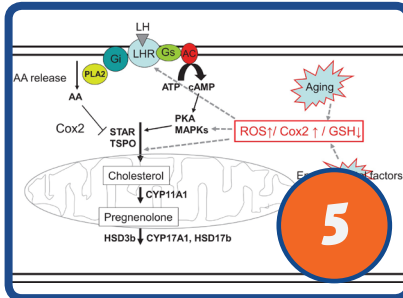
2



3



4



5

1 Alveesklier

2 Epifyse

3 Maag

4 Schildklier

5 Testikel / zaadbal



Afgelopen weekend verschenen in de tuinen van vijf bewoners (Blom, Grondsma, Heesterveld, Van leperen, Perk) van dezelfde straat een aantal tuinbeelden (buste, kikker, uil, leeuw, Venus) en andere ornamenten (fontein, lantaarnpaal, tuinbank, vogelbad, zonnewijzer). Het tuincentrum dat recentelijk zijn deuren opende, biedt namelijk niet alleen een grote collectie planten aan, maar heeft ook een uitgebreide afdeling vol tuindecoraties. Op welk nummer woont welke familie en welk tuinbeeld en ander ornamenten staan nu in de tuinen?

Het huisnummer van de bewoner wiens tuin opgesierd wordt door een staande leeuw met een leeg wapenschild in zijn poten is twee hoger dan dat van de man die een fontein aanschafte en daar bovenop een Venusbeeld plaatste.

De familie van nummer 7 kocht een zonnewijzer op voet.

Jan en Erika van leperen wonen met hun drie kinderen op nummer 3.

De familie Heesterveld, die een buste op pilaar naast de voordeur heeft gezet, woont niet op nummer 1.

In de tuin van nummer 9 staat een beeld van een gigantische uil. De familie Blom woont hier niet en de uil gaat niet vergezeld van een stenen bank.

Meneer Grondsma, die niet op nummer 1 of 9 woont, kwam niet thuis met een enorme kikker, maar wel met een stenen vogelbad.

**1** Blom - kikker -  
tuinbank

**3** Van leperen -  
venus - fontein

**5** Grondsma - leeuw -  
vogelbad

**7** Heesterveld -  
buste - zonnewijzer

**9** Perk - uil -  
lantaarnpaal

## 71

Elk seizoen heeft zijn charme. Het knus binnen zitten in de winter, de eerste zonnestrallen in de lente, de zwoele zomeravonden of het tikken van de regen op je zolderraam. Een bijpassend liedje maakt het nog prettiger.

Op de site staan tien liedjes. Geef van ieder liedje de bijbehorende titel, naam van de artiest en het seizoen wat er aan gerelateerd is.

- |   |  |  |
|---|--|--|
| <b>1</b> <i>Winter Song</i><br>Sara Bareilles<br>Winter | <b>2</b> <i>Pina Colada</i><br>K3<br>Zomer               | <b>3</b> <i>Girls in their summer clothes</i><br>Bruce Springsteen - Zomer |
| <b>4</b> <i>Spring affair</i><br>Donna Summer<br>Lente  | <b>5</b> <i>Winter Things</i><br>Ariana Grande<br>Winter | <b>6</b> <i>Le printemps</i><br>Michel Fugain<br>Lente                     |
| <b>7</b> <i>Winter</i><br>Rolling Stones<br>Winter      |  | <b>8</b> <i>When the leaves come falling down</i> - Van Morrison<br>Herfst |
| <b>9</b> <i>Lentesneeuw</i><br>Marco Borsato<br>Lente   |  | <b>10</b> <i>Leaves that are green</i><br>Simon and Garfunkel<br>Herfst    |

## 72

In de tas vinden jullie een kleurplaat. Kleur deze kleurplaat van de vier seizoenen helemaal in. Het moet een echt kunstwerk worden. Daarom mogen aan elkaar grenzende vakjes niet dezelfde kleur hebben. Veel kleurplezier.

## 73

#MeToo verhalen zijn al heel oud. Al schreef je dat toen nog als Myto. Vul de lege plekken goed in.

Deze moeder \_\_\_\_\_1\_\_\_\_\_ was vol liefde voor haar dochter \_\_\_\_\_2\_\_\_\_\_ en beschermde haar waar en wanneer ze maar kon. Maar toch ging het een keer mis; het meisje werd meegenomen, juist toen ze bloemen plukte in het veld, door \_\_\_\_\_3\_\_\_\_\_. Deze kwam met paard en wagen op uit een kloof en trok haar op zijn wagen. Ze riep om hulp, maar dat hielp niet. Ze verdween met hem.

Toen haar moeder ontdekte dat ze verdwenen was, ging ze alle sterrenbeelden af en vroeg ze aan \_\_\_\_\_4\_\_\_\_\_ of zij wist waar haar dochter was. Ja, ze had gehoord van \_\_\_\_\_5\_\_\_\_\_, die alles had gezien, waar het meisje was gebleven. De moeder was volkomen machteloos en treurde. Daardoor brak een dorre periode aan. Omdat het steeds erger en erger werd voor de mensen, gebod \_\_\_\_\_6\_\_\_\_\_ aan zijn broer om het meisje terug te geven aan haar moeder. Dit zou hij doen, maar het meisje moest nog één avondmaaltijd eten bij hem. Het meisje at toen zes granaatappeltjes.

Maar als er eenmaal iets is gegeten bij hem in het \_\_\_\_\_7\_\_\_\_\_, kan men niet meer terugkeren. Voor elk ding dat ze gegeten had, moest het meisje een maand naar hem terugkeren. En zo geschiedde: elk jaar mag ze zowel in de \_\_\_\_\_8\_\_\_\_\_ als in de \_\_\_\_\_9\_\_\_\_\_ naar haar moeder. En in de andere twee \_\_\_\_\_10\_\_\_\_\_ gaat ze naar haar eerdere ontvoerder.

1 Demeter

2 Persephone

3 Hades

4 Hélice

5 Helios

6 Zeus

7 Dodenrijk

8 Lente / zomer

9 Zomer / lente

10 Seizoenen

74

Heel Nederland is er goed in, dus mensen in Hoogeloon vast ook “bingewatchen”. Avond na avond, seizoen na seizoen. Op [www.loonsekwis.nl](http://www.loonsekwis.nl) vinden jullie tien fragmenten van populaire series. Hoeveel seizoenen van deze series zijn inmiddels in Nederland uitgezonden?

1

*Orange is the new Black - 6*

2

*Grimm - 6*

3

*House of Cards - 6*

4

*Luther - 4*

5

*Prison Break - 5*

6

*Game of Thrones - 7*

7

*Sons of Anarchy - 7*

8

*The Bridge - 4*

9

*Friends - 10*

10

*Please like me - 4*

75

Voor veel mensen is het voorjaar een tijd om er lekker op uit te gaan. Familie Witlox-Willems uit Hoogeloon wil in het voorseizoen een weekje op vakantie. Ze gaan van 18 mei t/m 25 mei 2019 in eigen land met hun caravan. Ze willen niet ver rijden en blijven daarom hemelsbreed binnen een straal van maximaal 50 km om Hoogeloon.

Hun eisen:

- Een toeristisch treintje
- Een klein dierenweitje
- Een speeltuin met een trampoline
- Trapskelters
- En tot slot: de camping moet zich hemelsbreed binnen een straal van 25 km vanaf Toverland Sevenum bevinden.

1. Welke camping voldoet aan hun eisen en is dus ideaal voor familie Witlox-Willems voor deze vakantie?
2. En wat zijn de totale kosten van deze staanplaats, exclusief douchen en toeristenbelasting?

1 Camping De Peel

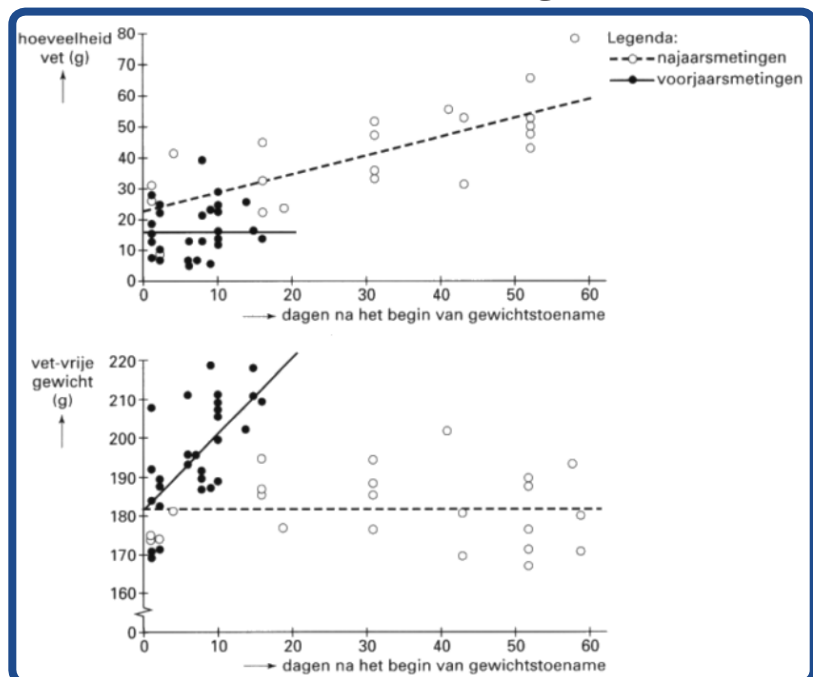
2 € 94,50 / € 222,25

Door een bepaalde vogelsoort regelmatig te vangen en te wegen blijkt dat ze zowel tijdens de lente als tijdens de herfst gemiddeld zwaarder worden. Van deze vogels is ook de totale hoeveelheid lichaamsvet en het vetvrije gewicht (dat de maat is voor de hoeveelheid eiwit) vastgesteld. Deze gegevens zijn in de onderstaande diagrammen weergegeven. Op grond van de gegevens in bovenstaande afbeelding worden over de gewichtsveranderingen in voor- en najaar de volgende beweringen gedaan:

1. In het najaar berust de gewichtstoename vrijwel geheel op vetten;
2. In het voorjaar is de dagelijkse gewichtstoename gemiddeld circa drie keer zo groot als in het najaar;
3. Bij het begin van de gewichtstoename is het verschil tussen het lichaamsgewicht in het voorjaar en het lichaamsgewicht in het najaar, minder dan 5%.

Welke van deze beweringen is of welke van deze beweringen zijn juist?

Bewering 1, 2 en 3



# 77

Elke seizoensstart hebben ze er weer zin in: de voetballers en de fans. Wij zijn ook benieuwd wie uit de Eredivisie de schaal omhoog mag houden aan het eind van het seizoen 2018-2019. Hoewel zij de meeste punten behalen, hoeven ze niet altijd de meeste doelpunten of de mooiste doelpunten te hebben gescoord.

Tijd voor het bekijken van een aantal doelpunten uit eerdere seizoenen. In welk voetbalseizoen werden de wedstrijden gespeeld (www.loonsekwis.nl)?

Voetbalfragmenten 5 in welk seizoen werden deze wedstrijden gespeeld in de eredivisie- welk voetbalseizoen

1 2017 - 2018

2 2015 - 2016

3 2000 - 2001

4 2011 - 2012

5 2013 - 2014

# 78

Onderstaande afbeeldingen zijn terug te vinden op de kaften van de verschillende drukken van één boek uit de klassieke literatuur. Het liefdesverhaal speelt zich af met op de achtergrond een roerige tijd in de geschiedenis. Hoe wordt deze periode genoemd?

Praagse Lente



## 79

Op onderstaande foto's staan een aantal weermannen/vrouwen afgebeeld. Schrijf de namen van de personen op van jong naar oud.



1 Jennifer Faber

2 Willemijn Hoebert

3 Jan Pelleboer

4 Harry Otten

5 Han Mellink

## 80

Deze vraag mocht natuurlijk niet ontbreken in deze categorie. Wij vragen jullie om van elke soort zoen een foto te maken, waaruit duidelijk blijkt dat jullie weten hoe deze zoen eruit hoort te zien. Deze foto stuur je naar het bekende e-mailadres.

Maak een foto van:

1. de vlinderzoen
2. de ondersteboven zoen
3. de eskimokus
4. de smaakkus
5. de bevroren kus



81

De één heeft meer te besteden dan de ander. Hieronder vinden jullie de namen van zes vermogende Nederlanders. Al zouden ze het kunnen, ze smijten hun kapitaal vaak juist niet over de balk. Kunnen jullie ons vertellen wat het verschil in geschat vermogen was van deze 6 personen tussen 2017 en 2018?



I 635.000.000



82

Bij Houthandel Gooskens weten ze natuurlijk alles van balken. Voor een speciale opdracht wordt een balk geschaafd waarvan de zijvlakken respectievelijk een oppervlakte hebben van 15, 21 en 35 vierkante centimeter. Wat is de inhoud van deze balk in kubieke centimeters?

I  $105 \text{ cm}^3$

## 83

Hoogeloon is al sinds jaar en dag verbonden met de paardensport en kent dan ook heel wat stoeterijen. In 1992 hadden wij zelfs een heuse olympisch kampioen wonen in ons mooie Hoogeloon. Helaas is deze topruiter, Bert Romp, overleden door een trap bij het inladen van een van zijn paarden. Welke 10 fameuze Nederlandse springruiters zie je hier?



1 Wout-Jan v.d. Schans

2 Piet Raaijmakers

3 Bert Romp

4 Jan Tops

5 Jos Lansink

6 Jeroen Dubbeldam

7 Angelique Hoorn

8 Leopold van Asten

9 Harrie Smolders

10 Gerco Schröder

84

Afgelopen januari was het nog in het nieuws, wij Nederlanders hebben nog voor meer dan 25 miljoen aan guldenbiljetten thuis liggen. Wat smijten we dan toch eigenlijk zelf stiekem een kapitaal over de balk. In de tas vinden jullie een lege enveloppe voorzien met het nummer van jullie team. Kunnen jullie ons een briefje van 5 en een van 10 gulden bezorgen? Of zijn jullie verstandig geweest en hebben dit allang ingeleverd bij de Nederlandse bank .... (de briefjes ontvangen jullie netjes terug tijdens de uitslagenavond).

Vele uitdrukkingen gaan over geld, munten en rijkdom. Hieronder hebben we er 10 verzameld, je zult ze vast niet allemaal kennen. Kunnen jullie ze wel ontcijferen?

- 1 Zwaluwen op het dak, guldens op zak.
- 3 Het voor geen houten daalder willen.
- 5 Wie een penning niet acht, krijgt over een gulden geen macht
- 7 Geld is de gesp van het harnas.
- 9 Een gulden op de drempel en een stuiver in huis.

- 2 Een drek op het land is een stuiver in de hand.
- 4 Hij ruikt naar geld als een jood naar spek.
- 6 De centen dansen hem in de zak.
- 8 Voor geld kan men de duivel laten dansen.
- 10 Hij wil een kikker villen voor een cent.

86

Ook de gemeente Bladel kan er wat van. Hieronder vinden jullie 2 afbeeldingen van projecten in Hoogeloon waarmee onze gemeente ook behoorlijk wat geld over de balk gesmeten heeft. We gaan vandaag een wandeltochtje maken van afbeelding 1 naar afbeelding 2.

- Beginnend bij afbeelding 1 en nemen de eerste straat recht.
- Op het einde van de weg gaan we linksaf.
- We lopen rechtdoor en nemen de eerste weg weer links.
- We blijven de weg volgen en lopen de 2e straat rechts in.
- Aan het einde van deze weg gaan we linksaf direct gevolgd door de eerste straat rechts.
- We volgen deze weg en gaan de 4e weg links daarna rechtsaanhouden vervolgens gewoon einde weg links
- Aan het einde van de weg wederom linksaf en blijven rechtdoor lopen totdat we bij afbeelding 2 aankomen

Hoe vaak zijn wij een woning gepasseerd aan onze linkerzijde, waarvan het huisnummer een 9 in zich heeft?



1 10

87

In 1971 begon de TROS met een TV programma wat zeker 40 jaar de Nederlandse buis sierde. In een van de aflevering maakte de deelnemers met een zelfgemaakte 1 of 2 wieler een zeer spannende tocht over een smalle balk. Op [www.loonsekwis.nl](http://www.loonsekwis.nl) vinden jullie 10 fragmenten van spel onderdelen van dit programma. Kunnen jullie deze spelonderdelen nog thuisbrengen?

1 Hoog en Droog

2 Gein op het Plein

3 Tobbedansen

4 Snel naar de bel

5 Fiets 'm er in

6 Achteruit rijden

7 Uitpakken en wegwezen

8 Op glad ijs

9 Vlieg er eens uit

10 Freewheelen

De een vind het totale geldverspilling, de ander juist de kans van zijn/haar leven om een enorme klapper te kunnen maken; kansspelen. Maar dan komt die klapper en moet je alsnog een groot bedrag overdragen aan de belastingdienst.

1. Wat is het hoogst mogelijke bedrag dat je in Nederland kunt winnen zonder daar belasting over te hoeven te betalen?

Afgelopen zondagen heeft heel Nederland massaal gekeken naar de koffertjes-show met Linda de Mol. Tijdens carnavalszondag werd een record bedrag uitgekeerd aan de winnaar(s) tenminste als het om dieptepunten gaat.

2. Wat was het bedrag wat deze winnaar moet afdragen aan kansspelbelasting?

In aflevering 4 uit seizoen 31 werd niet alleen een enorme prijs uitgekeerd tijdens dit programma.

3. Welke bijzondere gebeurtenis vond nog meer plaats tijdens de finale van deze uitzending?

Maar als je in Nederland echt een klapper wilt maken, kun je beter meespelen met de Staatsloterij.

4. Waar vond de allereerste trekking van de Staatsloterij plaats?

Onlangs nog viel niet ver hier vandaan een enorm jackpot bedrag.

5. Met welk bedrag is deze bonuspot ooit gestart?

1 448,99 euro

2 5418,00 euro

3 Huwelijksaanzoek

4 De Ridderzaal in Den Haag

5 1,2 miljoen GULDEN

## 89

Ook onze overheid is er een kei in, geld over de balk smijten .... Programma's als "Kan niet waar zijn", "Over de Balk" en "Van onze centen" zijn dan ook ware kijkcijferhits. Hieronder vinden jullie 5 minder geslaagde overheidsprojecten. Kunnen jullie achterhalen welk gemeentewapen hierbij hoort?



1




2



3




4




5



6



7



8



9



10

1 9

2 10

3 7

4 6

5 8



90

Sommige mensen hebben een zeer herkenbare stem. Wie herkent nu niet de stem van Hans van Zetten sportcommentator bij het turnen, kunstrijden en ritmische gymnastiek.

Op onze site [www.loonsekwis.nl](http://www.loonsekwis.nl) vinden jullie 10 audiofragmenten van diverse sport (co)commentatoren. Weten jullie welk gezicht hierbij hoort?



1 I

2 F

3 C

4 H

5 J

6 G

7 B

8 A

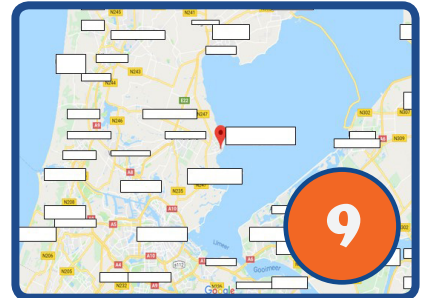
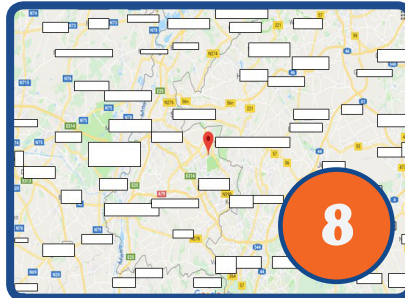
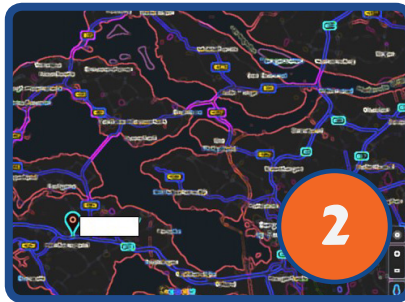
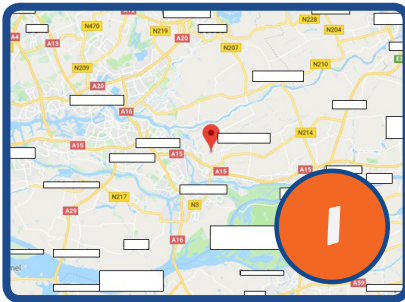
9 E

10 D

**91**

Iedereen kent wel de memoblokken om allerlei notities op te schrijven. Met deze blaadjes kun je ook heel goed “origami”figuren vouwen. In de tas vinden jullie een aantal van deze blaadjes vouw hiervan minstens 7 kraanvogels! Vervolgens maak je hiervan een mobiel! Lever deze mobiel , voorzien van de naam van je team, samen met het quizboek in!

Op de aangegeven locaties zit iets wat te maken heeft met de categorie waar deze vragen betrekking op hebben. Geef van allen het juiste adres en postcode hierbij aan.



**1** Wilgenlaan 8  
2969 BT

**2** Westhofsezandweg  
3, 4444 SM

**3** Koepas 8  
5808 AB

**4** Hagelaan 1  
2631 BV

**5** Touwslagerstraat 19  
1013 DL

**6** Eiland 11  
8011 XR

**7** Prins Bernardstraat  
2, 4507 BE

**8** Limburgiaplantsoen  
42, 6445 XD

**9** H.J. Calkoengracht  
23, 1131 ZM

**10** Nijverheidsweg 1A  
7948 NE

93

Je kunt op allerlei manieren iets duidelijk maken aan iemand. Alleen moet je dan beide wel dezelfde taal spreken. Weet je de betekenis van onderstaande plaatjes?



1 Houden van

2 Schoon

3 Gelukkig Nieuwjaar

4 Vliegtuig

5 Pizza / bord

94

Natuurlijk vragen wij ook deze keer weer om iets te proeven. Wat hoort er dan in deze categorie thuis? Juist noten. Misschien staan ze wel voor je neus op tafel? In de tas vinden jullie 5 zakjes waarin verschillende noten te proeven zijn. Simpel dus vertel ons welke noten het zijn!

1 Pecannoot

2 Kemiri noot

3 Macadamia noot

4 Hazelnoot

5 Paranoot

95

Door de jaren heen zijn er tot op de dag van vandaag heel veel muziekprogramma's te zien geweest op t.v. Onderstaande personen hebben een muziekprogramma gepresenteerd of presenteren het nu nog. Aan jullie de vraag wie zijn het en welk programma hebben ze op hun naam geschreven?




1



2



3



4



5



6



7



8



9



10

1 Ad Visser  
Toppop

2 Chiel Montagne  
Op losse groeven  
Op volle toeren

3 Ernst Daniel Smid  
Una Voce Particolare

4 Monique Smit  
Zapp Kids Top 20

5 Paul Witteman  
Podium Witteman

6 Dennie Christian  
Schlager Festival

7 Letty Kosterman  
Nieuwe oogst

8 Marjolein Keuning  
Het gevoel van

9 Marc Dik  
Korenslag

10 Melchior Huurdeman  
Vrije geluiden

96

Helaas kent het luchtverkeer ook noodsituaties en deze lopen niet altijd goed af. We herinneren ons allemaal de ramp met de MH17. Maar er zijn nog meer rampen geweest waar Nederland of Nederlanders bij betrokken waren.

Er staan 5 typen vliegtuigen afgebeeld die bij zo'n crash zijn verongelukt. Hierover gaan de vragen.

1. Wat is de voornaam van de overlevende van toestel C?
2. In welke plaats stortte vliegtuig D neer?
3. Op welke datum was het ongeluk met toestel B?
4. Hoeveel vliegtuig inzittenden zijn in totaal overleden bij de vijf rampen met soortgelijke vliegtuigen als hieronder weergegeven, waarbij Nederland of Nederlanders betrokken waren?
5. Welk vliegtuig past niet in het rijtje?



a



b



c



d



e

1 Ruben

2 Faro

3 27 maart 1977

4 755

5 Vliegtuig E dit is een vrachtvliegtuig

H E R G E R N I S G I D O N H K T I E P G H I E  
 P N H O E R A O L I E N O O T O R E D N E L L E  
 V O E T N O O T O T E H L O O E N U I O T I B S  
 E O K K E R N O O T L T P N N O J K I O O E E G  
 I D E E L N K O O O E I S U O M E N P D N N K T  
 R H R ! A U N N K L N O O D T O E S T A N D D A  
 A U B C L E C R G D K E S E Z K C D U G Z O R E  
 N L E E G O I E A O P I G E E H Z W A G U M O T  
 E P G S L M L P K O G N B T R N D O T R O E O T  
 P N A B P D N E G N I K K I R H C S R E V O G Z  
 O L O I N J N P A V B E J B E O I A D G N E N N  
 K N P O E N A A E L I V T I S I O E M A V J E A  
 W L O N D L L O A Z I D D S R A T S R A A E A N  
 E D N O D W R E U N O O T M U S K A A T N R R E  
 L V K O D P E M G O T D R O T R P R T A S D N G  
 L P D D E K E E N O O E O T O O N N E P A G E O  
 I I O B N O R G R D O O K O O N K O M Z M O N L  
 N S O R G O N E E U N O T E N K R A K E R E D A  
 G T N U M I I A E I I D O O N S R E G N O H T A  
 K A T G N T B E N T R J E K E I R E P O V O A S  
 T C D O I D I E H G I R A N K M N E M P N E W I  
 N H W T M A C A D A M I A N U E A G T M A I A R  
 V E O A N M O O B N E T O N E G R D E A O L E Z  
 E N O O D Z A A K G K K W I B C A S H E W K K S

AANTEKENING  
 ADEMNOOD  
 AGONIE  
 AMANDEL  
 ANGST  
 APENNOOT  
 ARMOEDE  
 BENAUWDHEID  
 BEPROEVING  
 BEUKENNOOT  
 BEZOEKING  
 BIS  
 BLOCNOTE  
 CASHEW  
 ELLENDE  
 ERGERNIS  
 GEBREK  
 GELDNOOD  
 GEMIS  
 GEVAAR  
 HOLTE  
 HONGERSNOOD  
 KEMIRINNOOT  
 KLAPPERNOOT

KLASGENOOT  
 KRIMP  
 MUZIEKTEKEN  
 NOODAGGREGAAT  
 NOODKREET  
 NOODUITGANG  
 NOOTMUSKAAT  
 NOTITIE  
 ONGELUK  
 PARANOOT  
 PINDA  
 SOORTGENOOT  
 WATERSNOOD

KNEL  
 KRUIDNOOT  
 NARIGHEID  
 NOODBRUG  
 NOODLOTTIG  
 NOODWEER  
 NOTA  
 OKKER  
 ONRAAD  
 PECAN  
 PISTACHE  
 TEMPTATIE  
 WONINGNOOD






KOKOSNOOT  
 KWELLING  
 NODIG  
 NOODHULP  
 NOODSIGNAAL  
 NOODZAAK  
 NOTENBOOM  
 OKKERNOOT  
 ONRUST  
 PENARIE  
 RAMP  
 VERSCHRIKKING  
 ZORG

KOMMER  
 MACADAMIA  
 NOOD  
 NOODKNOP  
 NOODTOESTAND  
 NOOT  
 NOTENKRAKER  
 OLIENOOT  
 OPSCHRIJVING  
 PEPERNOOT  
 RATS  
 VOETNOOT

**I** Hiep hiep hoera het is je gelukt! Deze punten zijn binnen als je alle andere vragen ook zo goed maakt ben je vast de winnaar van deze kwis

98

Jullie zien hier acht stukjes met muzieknoten, zet ze in de juiste volgorde dan weten jullie welk lied we bedoelen!





*'t dondert en het bliksemt  
guus meeuw*



99

Noodsituaties kennen we allemaal. Soms hebben we geluk en waarschuwen borden ons voor de nood die misschien wel komen gaat. Schrijf van onderstaande borden de betekenis op. Let op ook de combinatie moet juist zijn om punten te scoren.



1 Laserstraal

2 Explosieve stoffen

3 Loslopend vee

4 Veiligheidsschoenen verplicht

5 Vluchtweg rechts

6 Telefoon voor brandalarm

7 Opgepast natte vloer

8 Glas breken

9 Reddingsloep

10 Reddingsboei

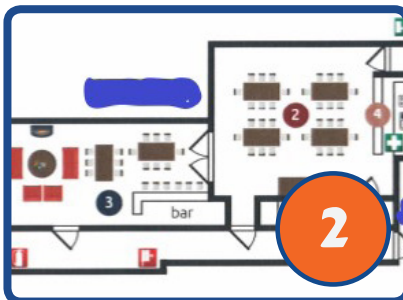
100

In elk openbaar gebouw hoort een plattegrond aanwezig te zijn waarop staat aangegeven waar je de brandblusser kunt vinden of de verbandtrommel staat waar de vluchtweg is enz.

Wij hebben 5 plattegronden verzameld en vragen jullie welk Hoogeloons gebouw er telkens staat afgebeeld.



1



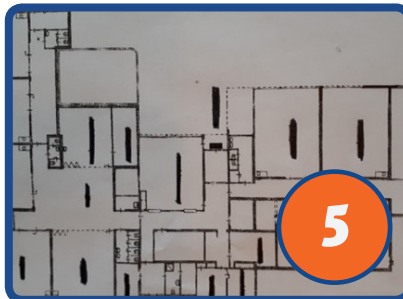
2



3



4



5

1 Steunpunt

2 Een accommodatie op Landgoed de Biestheuvel

3 Zwembad op d'n Heuvel

4 Zorgvilla

5 Basisschool